

General Knowledge

Sample 1

English



Name the following pictures.



Ask the child to name any 3 items in English, out of which 2 must be correct.

Math 1

Tell the time




Ask any 1, which must be correct

Sample 1

Math 2

قیمت جدول



ہدایات:-

- یہ پہلی جماعت سے اوپر کے بچوں کو دیجئے۔
- سکول نہ جانے والے بچوں میں 10 سے 16 سال کی عمر کے بچوں کے دیجئے۔
- ہر سوال کو پڑھ کر سنائیں۔
- کوئی بھی سوال دو مرتبہ سے زیادہ نہ دہرائیں۔
- حل کرنے کا طریقہ بچوں کو نہ سمجھائیں۔

مندرجہ بالا تصاویر کو دیکھیں۔ اس میں کئی چیزوں کی قیمت دی گئی ہے جیسے ایک کتاب 95 روپے کی ہے۔
انہیں دیکھ کر نیچے دیئے گئے سوالات کے جوابات دیں۔

1Q عارف نے ایک بستہ اور ایک پین خریدا۔ اس نے کل کتنی رقم ادا کی؟

2Q عینی نے 4 گڑیا خریدیں۔ اس نے کل کتنی رقم ادا کی۔