
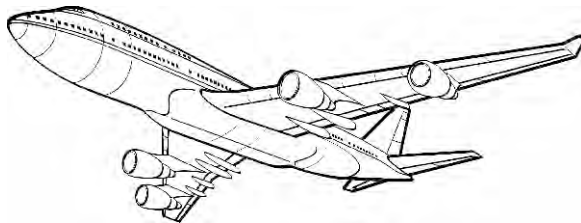


General Knowledge

Sample 2

English



Name the following pictures.



Ask the child to name any 3 items in English, out of which 2 must be correct.

Math 1

Tell the time



Ask any 1, which must be correct

Sample 2

Math 2

قیمت جدول



45 روپے



75 روپے



80 روپے



70 روپے

ہدایات:-

- یہ پہلی جماعت سے اوپر کے بچوں کو دیجئے۔
- سکول نہ جانے والے بچوں میں 10 سے 16 سال کی عمر کے بچوں کے دیجئے۔
- ہر سوال کو پڑھ کر سنائیں۔
- کوئی بھی سوال دو مرتبہ سے زیادہ نہ دہرائیں۔
- حل کرنے کا طریقہ بچوں کو نہ سمجھائیں۔

مندرجہ بالا تصاویر کو دیکھیں۔ اس میں کئی چیزوں کی قیمت دی گئی ہے جیسے ایک کار 55 روپے کی ہے۔ انہیں دیکھ کر نیچے دیئے گئے سوالات کے جوابات دیں۔

1Q زاہد نے ایک فٹبال اور ایک جوس خریدا۔ اس نے کل کتنی رقم ادا کی؟

2Q عارفہ نے 4 چیومیٹری باکس خریدے۔ اس نے کل کتنی رقم ادا کی؟