

Common Numeracy Assessment Tools

نمونہ 2

Sample 2




گاؤں کا نام: _____

سروے کرنے والے کا نام: 1 _____


سروے کرنے والے کا نام: 2 _____

SET 1

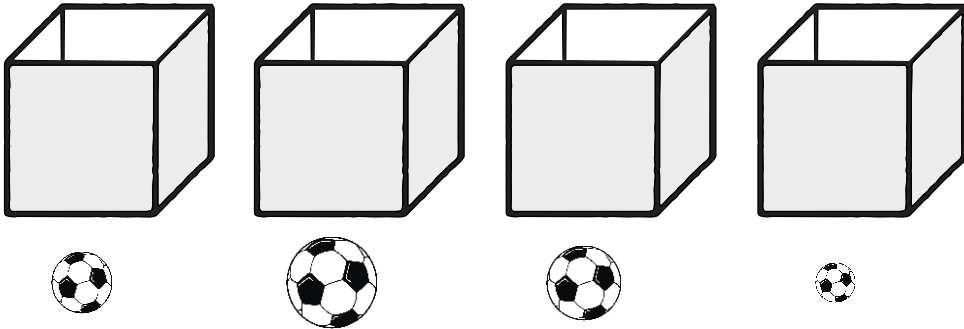
سوال: 2 دی گئی تصویر میں کون سا بچہ درخت سے زیادہ دور ہے؟



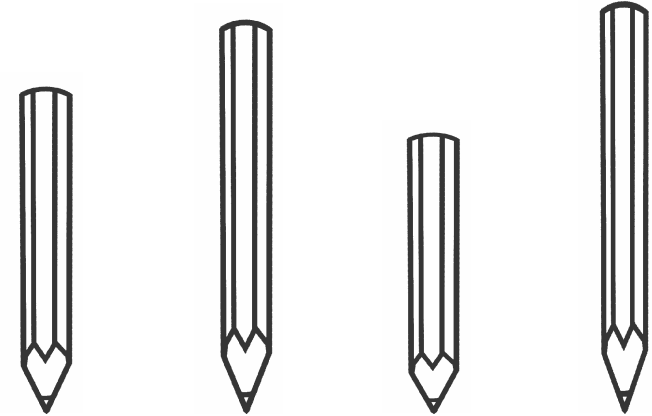
سوال: 1 دی گئی تصویر میں کون سا کتا ڈبے کے اندر ہے؟



سوال: 4 یہاں ایک ہی حجم کے 4 ڈبے ہیں۔ اگر ہم ہر ڈبے کو مکمل طور پر اُس کے ساتھ پڑی ہوئی گیند سے بھریں۔ تو کس ڈبے میں گیندوں کی تعداد سب سے زیادہ ہوگی؟



سوال: 3 دی گئی تصویر میں کون سی پنسل سب سے چھوٹی ہے؟





نیچے دیئے گئے چارٹ کو غور سے دیکھیے

15			
14			
13			
12		🍏	
11		🍏	
10		🍏	
9		🍏	
8		🍏	
7	🍌	🍏	
6	🍌	🍏	
5	🍌	🍏	
4	🍌	🍏	🍊
3	🍌	🍏	🍊
2	🍌	🍏	🍊
1	🍌	🍏	🍊
0	🍌	🍏	🍊
	کیلا	سیب	مالٹا

سوال: 5 یہاں کتنے سیب ہیں؟

سوال: 6 یہاں مالٹوں سے کتنے کیلے تعداد میں زیادہ ہیں؟

اس گھڑی پہ کیا وقت ہوا ہے؟



نیچے دیئے گئے کیلنڈر کو غور سے دیکھیں۔

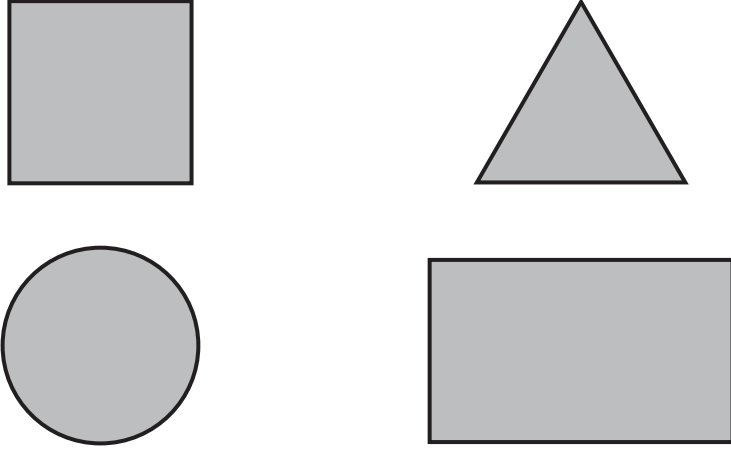
مارچ 2019						
اتوار	پیر	منگل	بدھ	جمعرات	جمعہ	ہفتہ
					1	2
3	4	5	6	7	8	9
10	11	12	13	14	15	16
17	18	19	20	21	22	23
24	25	26	27	28	29	30
31						

سوال: 9 مارچ کی 4 تاریخ کو کونسا دن ہے؟

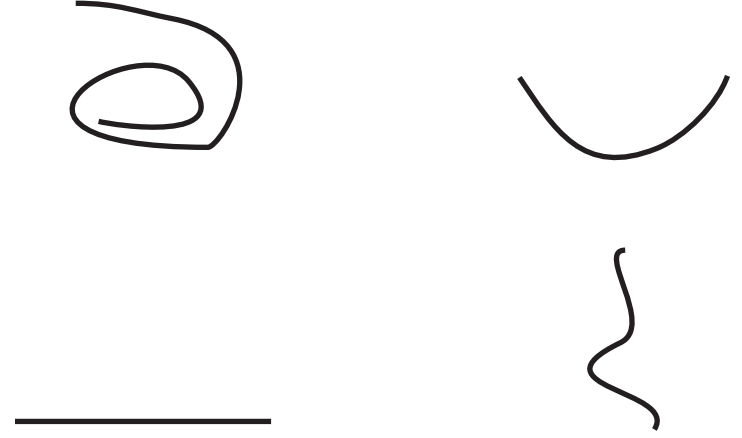
سوال: 10 اس ماہ کے دوسرے بدھ کے دن کون سی تاریخ ہے؟

SET 1

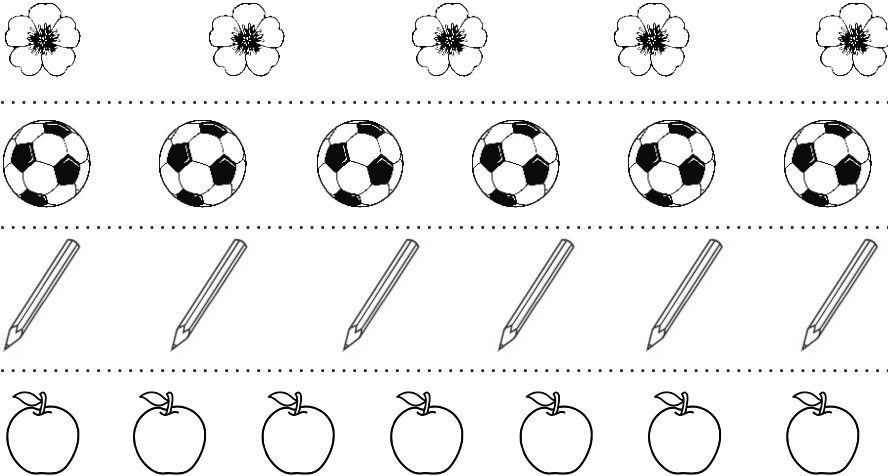
سوال: 12 دی گئی اشکال میں سے کس شکل کو مثلث کہتے ہیں؟




سوال: 11 ان میں سے کونسی لکیر سیدھی ہے؟



سوال: 14 نیچے مختلف اشیاء کے چار گروپ دیئے گئے ہیں؟ ان کو غور سے دیکھیں کہ کس گروپ میں اشیاء کی تعداد سب سے زیادہ ہے؟



سوال: 13 تصویر میں کتنے پرندے ہیں۔ نیچے دیئے گئے اعداد میں سے صحیح کا انتخاب کریں۔



9

8

6

5

دیئے گئے سوالات کو حل کیجیے۔

سوال: 19

$$8 \div 4 =$$

سوال: 18

$$3 \times 2 =$$

سوال: 17

$$\begin{array}{r} 47 \\ - 23 \\ \hline \\ \hline \end{array}$$

سوال: 16

$$\begin{array}{r} 34 \\ + 15 \\ \hline \\ \hline \end{array}$$

سوال: 15 اعداد پہچانیں۔

1

4

7

0

9

5 اعداد میں سے 4 اعداد درست ہونے چاہئیں۔

دیئے گئے سوالات کو حل کیجیے۔

سوال: 24

$$6 \overline{) 91}$$

سوال: 23

$$\begin{array}{r} 32 \\ \times 7 \\ \hline \\ \hline \end{array}$$

سوال: 22

$$\begin{array}{r} 78 \\ - 49 \\ \hline \\ \hline \end{array}$$

سوال: 21

$$\begin{array}{r} 57 \\ + 18 \\ \hline \\ \hline \end{array}$$

سوال: 20 اعداد کو پہچانیں۔

44

38

20

83

96

5 اعداد میں سے 4 اعداد درست ہونے چاہئیں۔

سوال: 26 سوال کو غور سے سنیں، حل کریں اور جواب دیں۔

ایک دکاندار کے پاس 42 پھول ہیں اگر وہ 3 پھول ایک ٹوکری میں رکھتا ہے تو تمام پھول رکھنے کے لیے کتنی ٹوکریاں چاہیے ہوں گی؟

سوال: 25 سوال کو غور سے سنیں، حل کریں اور جواب دیں۔

ایک سکول میں 41 بچے تھے۔ ان میں سے 24 بچے گھر چلے گئے۔ اب سکول میں کتنے بچے باقی ہیں؟

